

**Задания по областной олимпиаде по информатике
«Инфознайка» 8 класс**

Теоретическая часть

1. **Зачем необходимо соблюдать правила техники безопасности при работе на компьютере?**
 - А. Чтобы избежать несчастные случаи
 - Б. Чтобы повысить мощность компьютера
 - В. Чтобы успешно учиться





2. **Дайте самый полный ответ. Информатика — это ...**
 - А. Умение обращаться с компьютером
 - Б. Наука об информации и способах ее хранения, обработки и передачи с помощью компьютера
 - В. Умение составлять компьютерные программы

3. **Определи носитель информации, который использовали в древности.**

A)	B)	C)	D)
			

4. **Перед посадкой самолета бортинженер поручил стюардессе сделать объявление пассажирам: «Сейчас в городе идет дождь, температура воздуха два градуса». Кем в данном случае является стюардесса?**
 - А. Источником информации;
 - Б. Получателем информации;
 - В. передатчиком информации;
 - Г. Все ответы верны





5. **Какой из инструментов позволяет вырезать выделенную область?**

а. 	б. 	в. 	г. 
--	--	--	--

5. **Текстовый редактор –**

- А. Специальная программа с набором инструментов для обработки графической информации
- Б. Специальная программа с набором инструментов для обработки текстовой и графической информации
- В. Специальная программа с набором инструментов для обработки текстовой информации

6. Укажи значок, которым обозначен текстовый редактор Word в вашем компьютере

А	Б	В	Г
			

7. Буратино попросили напечатать слово “СТОЛБЫ”, но он набрал слово “СТОЛЫ” и понял, что допустил ошибку. Помогите Буратино определить тип ошибки.

- А. Пропущенный символ
- Б. Лишний символ
- В. Неверный символ
- Г. Все ответы верны

8. Курсор – это:

- А. Устройство ввода текстовой информации;
- Б. Клавиша на клавиатуре;
- В. Наименьший элемент отображения на экране;
- Г. Метка на экране монитора, указывающая позицию, в которой будет отображен текст, вводимый с клавиатуры.

9. Выделенная клавиша при наборе текста позволяет:

- А. удалять символ слева от курсора
- Б. удалять символ справа от курсора
- В. набрать прописную букву
- Г. переводить курсор на новую строку



10. Определите устройство.

- А. Монитор
- Б. Клавиатура
- В. Системный блок
- Г. Сканер



Практическая часть

Выполни задание на компьютере. Затем сделай скриншот (снимок экрана) и отправь на проверку.

1. Создайте и оформите таблицу по образцу в текстовом редакторе Microsoft Word
2. Постойте по данным таблицы круговую диаграмму

Площадь континентов	
Название континента	Площадь (млн.кв.км)
Европа	10,00
Азия	43,40
Северная Америка	24,71
Южная Америка	17,84
Австралия	7,66
Антарктида	14,10
Африка	30,30
Всего:	148,01